



- 66 Robotine achète une trottinette à 49 € et un casque à 36 €. **Combien d'argent Robotine a-t-elle dépensé ?**




Schéma



Opération(s)


Calcul(s)

Phrase réponse



- 67 Tirobot achète un teeshirt à 24 €. Il achète aussi un sac. Il dépense 36 € en tout. **Combien le sac coûte-t-il ?**

Schéma



Opération(s)

Calcul(s)

Phrase réponse



68 Tirobot achète des lunettes de soleil et une casquette. Chaque article coute 17 €.

Combien d'argent Tirobot dépense-t-il ?




Opération(s)

Schéma

Calcul(s)

Phrase réponse



69 Robotine et Tirobot ont tous leurs articles dans un caddie. Ils ont 46 articles et seulement 2 sacs. Ils répartissent équitablement les articles dans les 2 sacs.

Combien d'articles y aura-t-il dans chaque sac ?

Opération(s)

Schéma

Calcul(s)



Phrase réponse

