


62 Tirobot achète 4 carnets de tickets de bus. Dans chaque carnet, il y a 10 tickets.
Combien de tickets Tirobot achète-t-il en tout ?


Schéma



Opération(s)

Calcul(s)

Phrase réponse



63 24 personnes sont dans un bus.
 35 autres personnes montent à l'arrêt suivant.
Combien de personnes y a-t-il en tout dans le bus ?

Schéma



Opération(s)


Calcul(s)

Phrase réponse



64 47 personnes sont dans le bus. 15 personnes descendent à l'arrêt.
Combien de personnes reste-t-il dans le bus ?


Schéma



Opération(s)

Calcul(s)

Phrase réponse



65 Le directeur a réservé 2 bus pour la sortie au musée.
 Il répartit équitablement les 62 élèves dans ces 2 bus.
Combien d'élèves y a-t-il dans chaque bus ?

Schéma

Opération(s)

Calcul(s)

Phrase réponse

