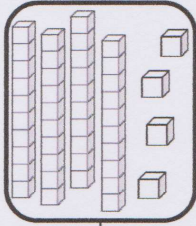
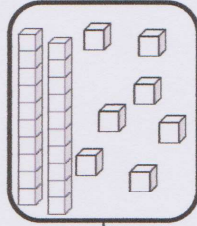


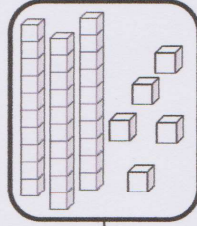
## Nombres et quantités : de 0 à 50

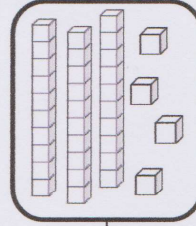


1 Complète avec le bon nombre :











2 Complète la bande numérique:



## Nombres et quantités : de 0 à 50

1 Complète le tableau des nombres

|    |    |    |    |    |    |    |    |    |    |
|----|----|----|----|----|----|----|----|----|----|
| 0  | 1  | 2  |    | 4  | 5  | 6  | 7  |    | 9  |
| 10 |    | 12 | 13 | 14 | 15 | 16 | 17 | 18 |    |
|    | 21 | 22 | 23 | 24 |    |    | 27 | 28 | 29 |
| 30 | 31 |    | 33 |    | 35 | 36 |    | 38 |    |
|    | 41 | 42 |    | 44 |    | 46 |    |    | 49 |

2 Trouve combien Arthur a d'argent dans sa tirelire :

